


嘉義市 108 學年度國民中學藝術才能班術科測驗試題(公告用)
樂理及音樂基本常識

一、音名 10% (每題 2 分, 共 10 分。)

請寫出下列各音的音名(音名名稱: C、D、E、F、G、A、B)




例: (C)	1. ()	2. ()	3. ()	4. ()	5. ()
----------	------------	------------	------------	------------	------------

二、音程 10% (每題 2 分, 共 10 分。)

請寫出下列音程的完全名稱, 例如: (小二) 度 10%

1. 2. 3. 4. 5.



1 () 度	2 () 度	3 () 度	4 () 度	5 () 度
-------------	-------------	-------------	-------------	-------------

三、和絃 10% (每題 2 分, 共 10 分。)

請寫出下列和絃的完全名稱, 例如: (大三) 和絃 10%

1. 2. 3. 4. 5.



1 () 和絃	2 () 和絃	3 () 和絃	4 () 和絃	5 () 和絃
--------------	--------------	--------------	--------------	--------------

四、配合題 10% (每題 2 分，共 10 分。)

下列西洋樂器依其音色分別屬於那種類型，請將分類代號填入括弧中

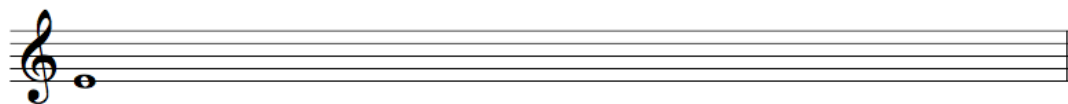
A：弦樂器 B：木管樂器 C：銅管樂器 D：擊樂器

樂器：	小提琴	大鼓	長笛	法國號	大提琴
分類代號：	()	()	()	()	()


五、音階 20% (每題 5 分，共 20 分。)

以指定音為主音，寫出指定的上行音階或調式(以臨時記號作答)


1. 大調音階




2. 和聲小音階



3. 自然小音階



4. 五聲音階角調式



六、音樂常識是非題 10% (對的打○，錯的打×，每題 2 分，共 10 分。)

- () 1. 舒伯特《鱒魚》五重奏編制是由鋼琴、小提琴、中提琴、大提琴和低音大提琴所組成的。
- () 2. 〈丟丟銅仔〉是一首嘉義民謠，描寫火車經過山洞時的情景。
- () 3. 圓舞曲通常是四拍子的舞曲。
- () 4. 〈小星星變奏曲〉是德國作曲家貝多芬所譜寫的樂曲。
- () 5. 在《海角七號》中，有舒伯特的藝術歌曲〈野玫瑰〉旋律融入電影當中。


七、音樂常識選擇題 30% (填入正確答案，每題 2 分，共 30 分。)


- () 1. 《皮爾金組曲》中的〈清晨〉用長笛和雙簧管吹奏旋律，描寫沙漠的早晨，金色的太陽冉冉升起的氣氛，請問此曲作家葛利格為哪一國人？
(1) 德國人
(2) 奧地利人
(3) 挪威人
(4) 美國人
- () 2. 民謠是集結許多傳統文化與鄉土氣息的歌謠，請問下列哪一首是客家民謠？
(1) 〈懷念年祭〉
(2) 〈望春風〉
(3) 〈撐船調〉
(4) 〈點膠仔〉
- () 3. 著名歌劇《魔笛》是誰的作品？
(1) 貝多芬
(2) 海頓
(3) 莫札特
(4) 蕭邦
- () 4. 近年來許多歌手將傳統戲曲換上新的包裝，把傳統戲曲的旋律或唱腔融合電子樂，而呈現出穿越傳統與現代的經典歌曲，下列哪一首歌曲沒有傳統戲曲的元素？
(1) 徐佳瑩〈身騎白馬〉
(2) 陳昇〈One Night in Beijing〉(北京一夜)
(3) 陶喆〈蘇三說〉
(4) 周杰倫〈告白氣球〉


() 5. 下列哪個作品不是柴可夫斯基所創作的芭蕾舞劇音樂？


- (1) 《彼得羅西卡》
- (2) 《天鵝湖》
- (3) 《睡美人》
- (4) 《胡桃鉗》

() 6. 請問下列空格內不應填入何種拍子？

(1) 

(2) 

(3) 

(4) 

() 7. 廟會活動在台灣相當盛行，其中在神明遶境出巡時常伴隨著中國傳統樂器的聲音，請問下列何者並非中國傳統的打擊樂器？

- (1) 堂鼓
- (2) 大鑼
- (3) 梆笛
- (4) 小鈸

() 8. 布拉姆斯寫了一首有名的搖籃曲，而臺灣音樂家也曾譜寫一首〈搖籃仔歌〉，請問〈搖籃仔歌〉是由下列那位音樂家所寫？

- (1) 呂泉生
- (2) 陸森寶
- (3) 蕭敬騰
- (4) 周杰倫

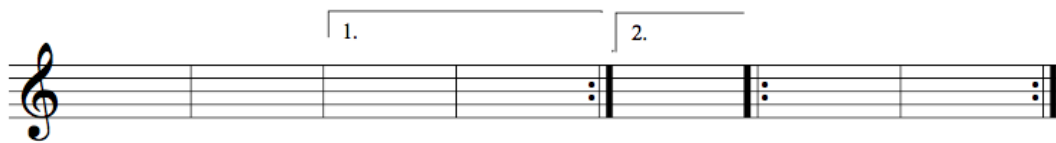
() 9. 阿信聽到音樂老師唸了一段鑼鼓經：「台台七台七台台」，聽完後阿信感到相當困惑，請問這段鑼鼓經指的是下列何者？

- (1) 中國傳統樂器梆笛的記譜方式
- (2) 布袋戲後場「擊樂」的樂譜
- (3) 布袋戲後場「文場」的樂譜
- (4) 歌仔戲主角對話的台詞

() 10. 請問力度記號：**中強**，指的是下列何者？

- (1) *p*
- (2) *mp*
- (3) *mf*
- (4) *f*

- ()11. 《彼得與狼》是俄國作曲家普羅科菲夫的作品，他利用樂器的音質與特性來詮釋故事中的人物，請問《彼得與狼》的獵人槍聲是用下列何種樂器代表？
- (1) 法國號
 - (2) 小提琴
 - (3) 定音鼓、大鼓
 - (4) 長笛
- ()12. 著名歌劇《杜蘭朵公主》是以中國宮廷為背景所創作，其中作曲家運用了下列哪首歌曲來貫穿全劇？
- (1) 〈小星星〉
 - (2) 〈茉莉花〉
 - (3) 〈歡樂歌〉
 - (4) 〈鳳陽花鼓〉
- ()13. 暑假時俊傑到夏威夷遊玩，看到有人戴著花環、穿著草裙，手上拿著夏威夷的傳統樂器在表演，請問表演者手上拿的可能是何種樂器？
- (1) 月琴
 - (2) 手風琴
 - (3) 風笛
 - (4) 烏克麗麗
- ()14. 嘉義市國際管樂節已經成為管樂界年度壓軸盛事，請問下列何種樂器通常不會在管樂團出現呢？
- (1) 小號
 - (2) 豎笛
 - (3) 直笛
 - (4) 薩克斯風
- ()15. 請問以下樂譜的總小節數是多少？



- (1) 10 小節
- (2) 11 小節
- (3) 12 小節
- (4) 13 小節